

**Examenul național de bacalaureat 2025**

**Proba E. d)**

**Geografie**

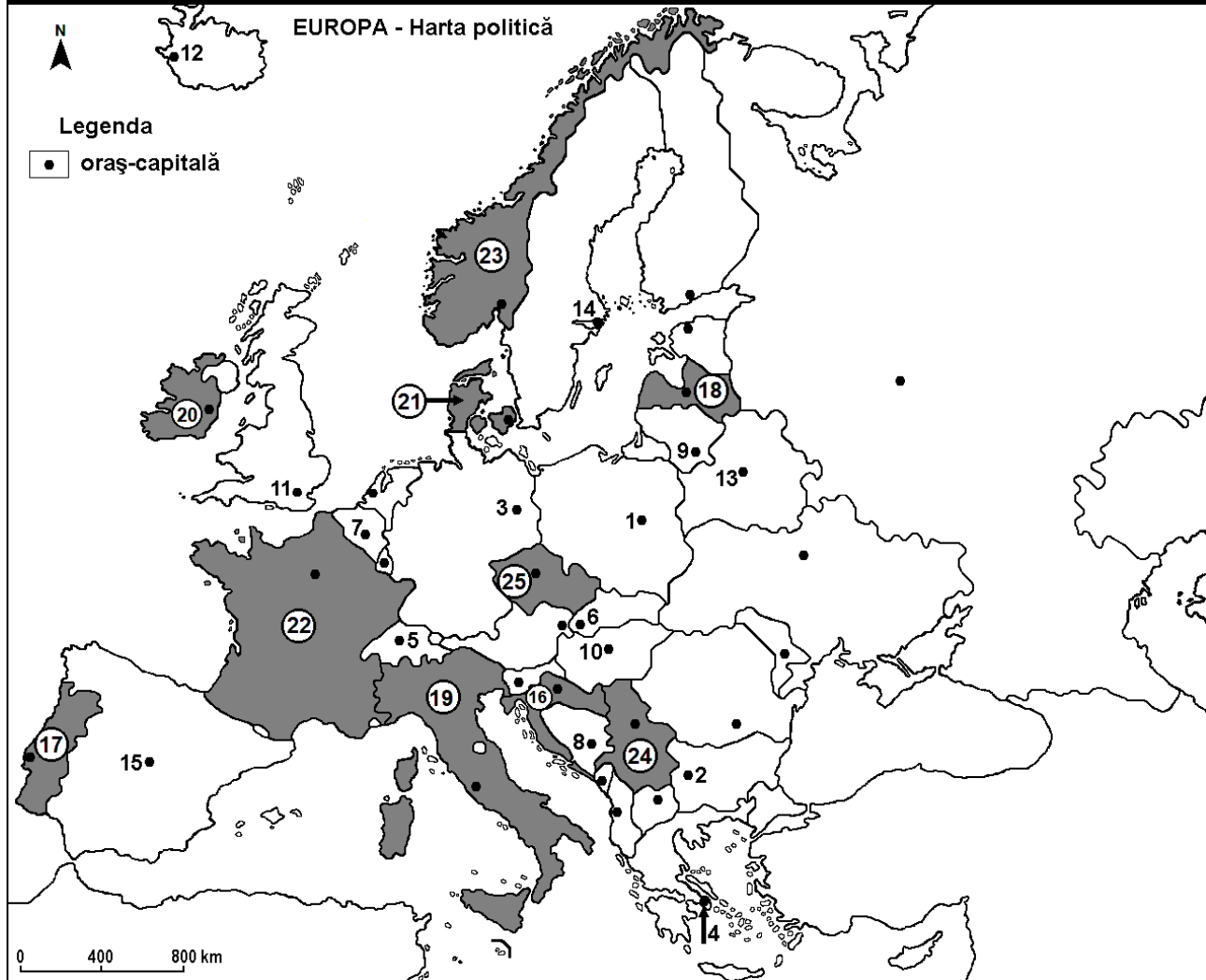
**Varianta 4**

*Profilul umanist din filiera teoretică, profilul servicii din filiera tehnologică și toate profilurile și specializările din filiera vocațională, cu excepția profilului militar*

- Toate subiectele sunt obligatorii. Se acordă zece puncte din oficiu.
- Timpul efectiv de lucru este de trei ore.

**AUFGABE I**

**(30 Punkte)**



Die oben angezeigte Karte bezieht sich auf die Aufgabe I A – E. Auf der Karte sind Hauptstädte mit Zahlen von 1 bis 15 und Staaten mit Zahlen von 16 bis 25 bezeichnet.

**A. Bestimmt:**

- 1 den Namen des Staates, der auf der Karte mit der Zahl 24 bezeichnet ist;
2. den Namen der Hauptstadt, die auf der Karte mit der Zahl 11 bezeichnet ist.

**4 Punkte**

**B. Schreibt auf das Prüfungsblatt die richtigen Antworten, welche folgende unten angegebenen Aussagen ergänzen:**

1. Die Hauptstadt, die auf der Karte mit der Zahl 10 bezeichnet ist, heißt
2. Der Staat, der auf der Karte mit der Zahl 25 bezeichnet ist, heißt ...
3. Die Städte Porto, Setubal und Lissabon befinden sich in dem Staat, der auf der Karte mit der Zahl ...bezeichnet ist.

**6 Punkte**

**C. Schreibt auf das Prüfungsblatt nur den der richtigen Antwort entsprechenden Buchstaben (a, b, c oder d) für jede der folgenden unten angegebenen Behauptungen:**

1. Die Hauptstadt Berlin ist auf der Karte mit der folgenden Zahl bezeichnet:

a. 1

b. 3

c. 5

d. 6

**2 Punkte**

2. Die Ströme Tajo, Duero und Guadalquivir durchqueren das Gebiet des Staates, dessen Hauptstadt auf der Karte mit der folgenden Zahl bezeichnet ist:  
a. 2                      b. 8                      c. 14                      d. 15                      **2 Punkte**
3. Die Dinarischen Alpen befinden sich auf dem Gebiet des Staates, der auf der Karte mit der folgenden Zahl bezeichnet ist:  
a. 16                      b. 18                      c. 22                      d. 23                      **2 Punkte**
4. Der Staat, der auf der Karte mit der Zahl **21** bezeichnet ist, heißt:  
a. Dänemark              b. Estland              c. Lettland              d. Litauen              **2 Punkte**
5. Oliven- und Zitrusbäume werden in jenem Staat angebaut, dessen Hauptstadt auf der Karte mit der folgenden Zahl bezeichnet ist:  
a. 4                      b. 9                      c. 12                      d. 13                      **2 Punkte**

D. Bestimmt drei Unterschiede zwischen dem **Klima** des Staates, bezeichnet auf der Karte mit der Zahl **19** und dem **Klima** des Staates, bezeichnet auf der Karte mit der Zahl **23**.

**Bemerkung 1:** Die Unterschiede können sich auf jedwelche der folgenden **Klimaelemente** beziehen: klimabestimmende Faktoren, Klimatyp, mittlere Jahres/Sommer/Wintertemperaturwerte, thermische Amplitude, mittlere Jahres/Sommer/Winterniederschlagsmengen, vorherrschende Winde, andere klimatische Aspekte

**Bemerkung 2:** Die vollständige Punkteanzahl wird nur dann vergeben, wenn die Unterschiede vergleichend und nicht einzeln vorgestellt werden.

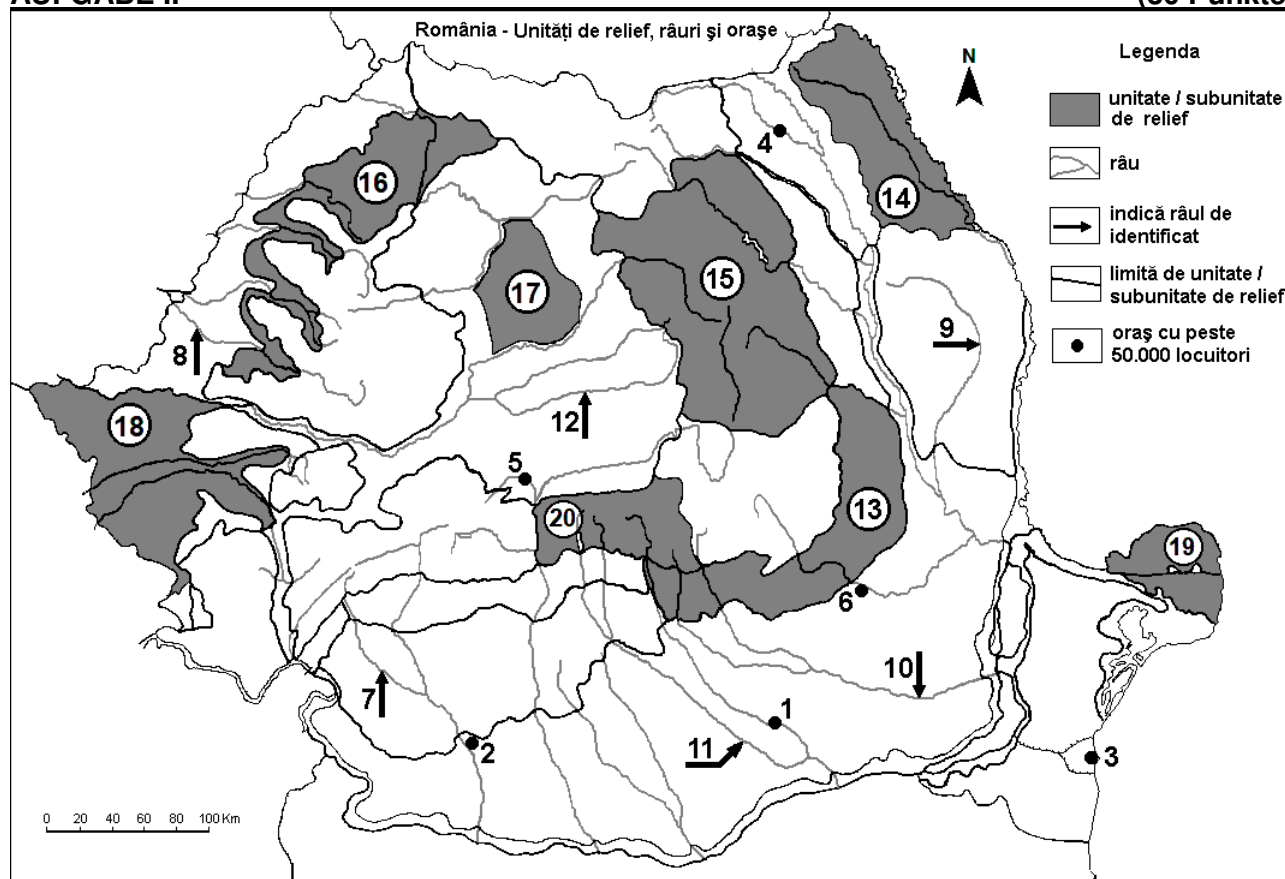
**Bemerkung 3:** Es ist **nicht** nötig, die Namen der Staaten zu nennen; man kann sich auf die Staaten auch nur mit den Zahlen beziehen, mit denen diese auf der Karte bezeichnet sind. **6 Punkte**

E. Präsentiert:

1. einen natürlichen Faktor, der den Anbau der Weinreben im Staat, welcher auf der Karte mit der Zahl **22** bezeichnet ist, begünstigt;
2. eine Ursache der Tatsache, dass der Staat, dessen Hauptstadt auf der Karte mit der Zahl **12** bezeichnet ist, vorwiegend elektrische Energie aus geothermischen Quellen erzeugt. **4 Punkte**

## AUFGABE II

(30 Punkte)



Die oben angezeigte Karte bezieht sich auf die Aufgabe II A – E. Auf der Karte sind Städte mit Zahlen von 1 bis 6, Flüsse mit Zahlen von 7 bis 12 und Reliefeinheiten/Reliefuntereinheiten mit Zahlen von 13 bis 20 bezeichnet.

**A. Bestimmt:**

1. den Namen der Stadt, die auf der Karte mit der Zahl **6** bezeichnet ist;
2. den Namen des Flusses, der auf der Karte mit der Zahl **10** bezeichnet ist. **4 Punkte**

**B. Schreibt auf das Prüfungsblatt die richtigen Antworten, welche folgende unten angegebenen Aussagen ergänzen:**

1. Der Fluss, der auf der Karte mit der Zahl **9** bezeichnet ist, heißt ...
2. Der größte Seehafen (nach dem Güterumschlag) befindet sich in der Stadt, die auf der Karte mit der Zahl ... bezeichnet ist.
3. Die Stadt Bukarest ist auf der Karte mit der Zahl ... bezeichnet. **6 Punkte**

**C. Schreibt auf das Prüfungsblatt nur den der richtigen Antwort entsprechenden Buchstaben (a, b, c oder d) für jede der folgenden unten angegebenen Behauptungen:**

1. Das Glazialrelief ist in der Reliefuntereinheit entstanden, die auf der Karte mit der Zahl bezeichnet ist:  
a. 13                      b. 16                      c. 18                      d. 20                      **2 Punkte**
2. Methangas fördert man in der Reliefuntereinheit, die auf der Karte mit der Zahl bezeichnet ist:  
a. 14                      b. 17                      c. 19                      d. 20                      **2 Punkte**
3. Ozeanische klimatische Einflüsse dringen in der Reliefuntereinheit, die auf der Karte mit der Zahl bezeichnet ist:  
a. 13                      b. 14                      c. 16                      d. 19                      **2 Punkte**
4. Die Stadt, die auf der Karte mit der Zahl **2** bezeichnet ist, heißt ...  
a. Alexandria              b. Craiova              c. Drobeta-Turnu Severin              d. Slatina              **2 Punkte**
5. Der Fluss, der auf der Karte mit der Zahl **8** bezeichnet ist, heißt ...  
a. Barchau (Barcău)              b. Weiße Kreisch (Crișul Alb)  
c. Schwarze Kreisch (Crișul Negru)              d. Schnelle Kreisch (Crișul Repede) **2 Punkte**

**D. Bestimmt drei Unterschiede zwischen der Reliefuntereinheit, bezeichnet auf der Karte mit der Zahl 14 und der Reliefuntereinheit, bezeichnet auf der Karte mit der Zahl 15.**

**Bemerkung 1:** Die Unterschiede können sich auf jedwelche der folgenden **Reliefaspekte** beziehen: Entstehungsweise, Gesteinsarten, auf denen das Relief entstanden ist, Höhen, Zurfurchung, Reliefstufen, Reliefarten, Orientierung der Gebirgsketten und der Haupttäler, Anordnung der Senken und andere spezifische Reliefaspekte.

**Bemerkung 2:** Die vollständige Punkteanzahl wird nur dann vergeben, wenn die drei Unterschiede vergleichend und nicht einzeln vorgestellt werden .

**Bemerkung 3:** Es ist **nicht** nötig, die Namen der Reliefuntereinheiten zu nennen, man kann sich auf die Reliefuntereinheiten auch nur mit den Zahlen beziehen, mit denen diese auf der Karte bezeichnet sind.

**6 Punkte**

**E. 1. Präsentiert eine Ursache, welche die geringe Bevölkerungsdichte in der Reliefuntereinheit bedingen, die auf der Karte mit der Zahl 19 bezeichnet ist.**

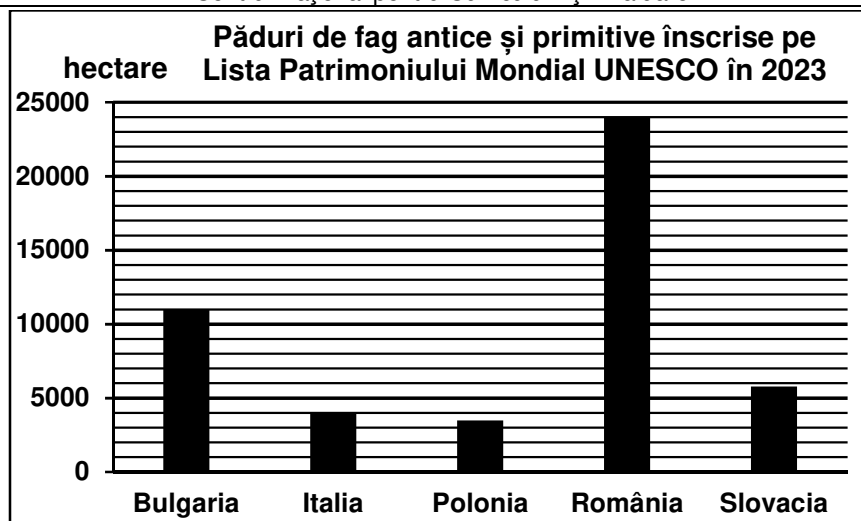
2. Nennt die Namen zweier Flüsse, welche die Reliefuntereinheit durchqueren oder abgrenzen, die auf der Karte mit der Zahl **18** bezeichnet ist. **4 Punkte**

**AUFGABE III**

**(30 Punkte)**

Die unten angezeigte graphische Darstellung bezieht sich auf die Aufgabe **III A-B** und zeigt die altentümlichen und ursprünglichen Buchenwaldflächen mancher europäischer Staaten, welche der UNESCO-Welterbeliste angehören, im Jahre 2023, (Werte in ha ausgedrückt).

Quelle: UNESCO – Welterbe-Abkommen



**A.** Nennt:

1. den Namen des Staates mit der größten altertümlichen und ursprünglichen Buchenwaldfläche im Jahre 2023, sowie die Angabe dieser Fläche, in Hektar ausgedrückt;
2. den Namen des Staates mit der geringsten altertümlichen und ursprünglichen Buchenwaldfläche im Jahre 2023, sowie die Angabe dieser Fläche, in Hektar ausgedrückt.

**4 Punkte**

**B. 1.** Nennt die Namen zweier Staaten, welche altertümliche und ursprüngliche Buchenwaldflächen von über 10.000 ha im Jahre 2023 besitzen.

2. Berechnet mit wieviel Hektar die altertümliche und ursprüngliche Buchenwaldfläche Bulgariens größer ist, als jene Italiens.
3. Berechnet mit wieviel Hektar die altertümliche und ursprüngliche Buchenwaldfläche Rumäniens größer ist, als jene der Slowakei.

**6 Punkte**

**C.** Nennt für die **Republik Moldawien** die Namen von:.

1. zwei Nachbarstaaten;
2. zwei Reliefeinheiten;
3. zwei fließenden Gewässern;
4. drei Städten;
5. ein Klimatyp.

**10 Punkte**

**D.** Die untenliegende Tabelle bezieht sich auf die Aufgabe **III D-E** und zeigt Daten betreffend der Bevölkerungsmigration der Jahre 2021 și 2022 für die Europäische Union und für Rumänien.

Demografische Indizes	Europäische Union (Anzahl der Personen)		Rumänien (Anzahl der Personen)	
	2021	2022	2021	2022
Einwanderer	1.920.000	2.260.000	164.000	287.000
Auswanderer	960.000	1.120.000	192.000	201.000

*Datenquellen: Eurostat/ INS (abgerundete Werte)*

Berechnet:

1. den Wert der Migrationsbilanz der Bevölkerung für die Europäische Union im Jahre 2022;
2. den Wert der Migrationsbilanz der Bevölkerung für Rumänien im Jahre 2021;
3. den Wert der Migrationsbilanz der Bevölkerung für Rumänien im Jahre 2022.

**6 Punkte**

**E. 1.** Bestimmt eine Ursache der positiven Migrationsbilanz für die Europäische Union in den Jahren 2021 und 2022.

2. Beschreibt eine Folge der Tatsache, dass in Rumänien, im Jahre 2022, die Anzahl der Einwanderer jene der Auswanderer übertroffen hat.

**4 Punkte**